

ВАРІАНТ 1

Завдання 1–23 мають по чотири варіанти відповіді, з яких лише один правильний. Виберіть правильний, на Вашу думку, варіант відповіді, позначте його в бланку. Не робіть інших позначок у бланку, тому що вони будуть розцінені як помилки!

1. Яку подію зображено на карті білою подвійною стрілкою?



- А Еміграція українського населення після закінчення II світової війни.
- Б Переселення поляків та українців на етнічні території після II світової війни.
- В Примусовий обмін населенням між Польщею та УРСР після II світової війни.
- Г Рух українських та польських партизанських загонів II світової війни.

2. Про кого з історичних діячів йдеться?

«Український політичний та громадський діяч, дипломат, письменник, юрист та борець за незалежність України у ХХ сторіччі. Співзасновник та активний член Української Гельсінської Групи, голова Української Гельсінської Спілки, одним з організаторів Української робітничо-селянської спілки. Кандидат в Президенти України на виборах 1991 р. Співавтор Декларації про державний суверенітет України, автор Акту проголошення незалежності України.»

- А А. Шептицький
- Б М. Руденко
- В Л. Кравчук
- Г Л. Лук'яненко

3. Організацію кримськотатарського національного руху (ОКНР) очолив...

- А М. Джемільєв
- Б Р. Годженов
- В Р. Ахметов
- Г М. Омеров

4. Який плакат пропагує одну з хрущовських надпрограм?




5. Які наслідки для України мав заколот ДКНС у Москві?

- А Проголошення незалежності України.
- Б Негайний вихід КПУ зі складу КПСР.
- В Підписання УРСР нового союзного договору.
- Г Негайний вихід КПУ зі складу КПСР.

6. Спроби економічних реформ у другій половині 1960-х рр. передбачали

- А ліквідацію монополії держави у сфері зовнішніх торговельних зв'язків
- Б дозвіл на індивідуальну підприємницьку діяльність
- В розширення господарської самостійності підприємств
- Г впровадження семирічного плану розвитку народного господарства

7. На якому з портретів зображено А. Єрмака?



А

Б

В

Г

8. Який зовнішньополітичний курс намагалася проводити «партія влади» до 2004 року?

- А Повна інтеграція в Європейський Союз.
- Б Зближення з Росією та країнами СНД.
- В Нейтралітет і неприєднання до жодних блоків.
- Г Маніфестація орієнтації на Європу, але збереження євразійського статусу.


9. Який орган був законодавчим в Україні після проголошення незалежності?

- А Президент України
- Б Верховна Рада України
- В Кабінет Міністрів
- Г Верховний Суд України

10. Яке визначення відповідає поняттю «номенклатура»?

- А Політика розміщення промислових об'єктів без урахування наявної сировинної бази, трудових ресурсів тощо.
- Б Узагальнююча назва посадовців різних рівнів, що є ланками командно-адміністративної системи.
- В Система управління, за якої частина функцій центральної влади переходить до місцевих органів самоврядування.
- Г Система, за якої функціонують і ведуть боротьбу за владу партії різної політичної орієнтації.

11. На якому явищі радянської дійсності 1970-х – 1980-х років фокусують увагу зображені карикатури?



- А Отриманні посадовцями нетрудових (незаконних) доходів на своїх посадах.
- Б Невідповідності фаху (освіти) відповідальних осіб займаним керівним посадам.
- В Нецільовому (неефективному) використанні посадовцями свого робочого часу.
- Г Умисному спотворенні (підробленні) посадовими особами звітних даних.

12. Яка подія описана в цитованому історичному джерелі?

«Нарешті ми сіли за стіл переговорів. Єльцин, Гайдар та Бурбуміс представляли на зустрічі Росію, я [Леонід Кравчук] та Фокін — Україну, Шушкевич та Кебич — Білорусь. На зустрічі... ми формулювали принципи взаємин у майбутній співдружності...»

- А Акт проголошення незалежності України.
- Б Альтернативні вибори до Верховної Ради СРСР.
- В Спроба державного перевороту в СРСР.
- Г Біловезька угода про створення Співдружності Незалежних Держав.

13. Хто з президентів України підписав Будапештський меморандум?

- А Л. Кравчук
- Б Л. Кучма
- В В. Ющенко
- Г В. Янукович

14. Про причини якої події йдеться в наведених твердженнях?

Відмова політичного керівництва країни від законодавчо закріпленого курсу на європейську інтеграцію, надмірна концентрація влади в руках В. Януковича та його прибічників, відхід від принципів демократії, загострення економічної кризи.

- А анексія Криму Росією
- Б Революція Гідності
- В початок антитерористичної операції
- Г підписання Україною Угоди про асоціацію з ЄС

15. В уривку йдеться про

«Це був протест не лише проти показової спроби принизити й упокорити українське суспільство – демонстративно не підписувати Угоду про асоціацію з ЄС. Це був вибух протесту проти дикого цинізму й аморальності тогочасної влади в Україні».

- А Революцію гвоздик
- Б Революцію на граніті
- В Революцію гідності
- Г Помаранчеву революцію

16. Укладені Віктором Януковичем 21 квітня 2010 року та звані Харківські угоди

- А посилили енергетичну залежність України від Росії
- Б продовжили термін присутності російського Чорноморського флоту в Криму на 25 років
- В підтвердили вступ України до Організації єдиного економічного простору
- Г сприяли зближенню України і НАТО

17. Революція Гідності відбулася

- А листопад 2014 - грудень 2014
- Б листопад 2013 - січень 2014
- В листопад 2013 - лютий 2014
- Г листопад 2013 - лютий 2015

18. Політика "прискорення" стосувалася

- А припинення "холодної війни"
- Б проведення виборів на багатопартійній основі
- В впровадження свободи слова
- Г розвитку економіки

19. Громадяни, не стійте, імпортне взуття закінчується. (Карикатура А. Юн)

Соціально-економічним процесам якого періоду розвитку України присвячена карикатура?



- А відбудови
- Б «відлиги»
- В застою і перебудови
- Г незалежного розвитку


20. Живий ланцюг «Українська хвиля» від Львова до Києва відбувся

- А 15 березня 1989 року
- Б 4 липня 1989 року
- В 22 січня 1990 року
- Г 28 травня 1990 року

21. Укажіть назву праці П. Шелеста, положення якої були розкритиковані як "націоналістичні".

- А "Україна наша радянська"
- Б "Історія міст та сіл Української РСР "
- В "Короткий нарис історії Української РСР"
- Г "Інтернаціоналізм чи русифікація"

22. Вкажіть особу, яка зображена на фото.



- А Є. Сверстюк
- Б В. Чорновіл
- В М. Джемилієв
- Г В. Стус

23. Що було характерним для діяльності дисидентів в УРСР?

- А викривання антигуманної суті режиму
- Б підготовка до збройного повстання
- В здійснення низки терористичних актів
- Г заклики до скасування багатопартійності

У завданнях 24–26 до кожного з чотирьох варіантів, позначених цифрами, доберіть один правильний, на Вашу думку, варіант, позначений буквою.





24. Узгодьте історичний період (1–4) із подією (А – Д).

<p>1. Україна в перші повоєнні роки (1945 – початок 1950-х рр.)</p> <p>2. Україна в умовах десталінізації (1953–1964 рр.)</p> <p>3. Україна в період загострення кризи радянської системи (1965–1985 рр.)</p> <p>4. Відновлення незалежності України (1985–1991 рр.)</p>	<p>А депортація частини населення західних областей України внаслідок здійснення операції «Захід»</p> <p>Б утворення Народного комісаріату закордонних справ УРСР</p> <p>В повстання політичних в'язнів у сталінських концтаборах, ліквідація Головного управління таборів (ГУТабу)</p> <p>Г утворення Української громадської групи сприяння виконанню Гельсінських угод (УГГ)</p> <p>Д проведення альтернативних виборів до Верховної Ради УРСР</p>
--	---

25. У відповідність подію з її наслідком.

<p>1. Початок діяльності Української робітничо-селянської спілки</p> <p>2. Офіційна реєстрація Української республіканської партії</p> <p>3. Утворення Української головної визвольної ради</p> <p>4. Заснування Української Гельсінської групи</p>	<p>А організаційне оформлення українського визвольного руху в роки Другої світової війни</p> <p>Б зростання ролі правозахисної діяльності в українському дисидентському русі</p> <p>В зародження українського дисидентського руху</p> <p>Г проголошення незалежності України</p> <p>Д формування багатопартійності в Україні</p>
---	--

26. Установіть відповідність між плакатами та історичними періодами.

 <p>1</p>	 <p>2</p>	 <p>3</p>	 <p>4</p>
<p>А Повоєнна відбудова та розвиток (1946 — початок 1950-х рр.).</p> <p>Б Політична та економічна лібералізація суспільства (1953–1964 рр.).</p> <p>В Загострення кризи радянської системи (1965–1985 рр.).</p> <p>Г Розпад Радянського Союзу та відродження незалежності України (1985–1991 рр.).</p>			

У завданнях 27 і 28 розташуйте події в хронологічній послідовності.

27. Установіть послідовність подій періоду розпаду Радянського Союзу й відродження незалежності України.

- А Ухвалення Декларації про державний суверенітет України.
- Б Утворення Народного руху України за перебудову.
- В Катастрофа на Чорнобильській АЕС.
- Г Перші альтернативні вибори до Верховної Ради УРСР.

28. Установіть послідовність подій, відображених на плакатах.



А



Б



В



Г

Завдання 29 і 30 мають по сім варіантів відповідей, з яких лише три правильні.

29. Укажіть складові «косигінської реформи» другої половини 1960-х рр.

1. Запровадження на великих промислових підприємствах «держприймання» готової продукції.
2. Ліквідація монополії держави у сфері зовнішніх торговельних зв'язків.
3. Відновлення галузевої системи управління промисловістю через союзні та союзно республіканські міністерства.
4. Дозвіл на індивідуальну підприємницьку діяльність у сфері виробництва товарів широкого вжитку.
5. Розширення господарської самостійності підприємств шляхом скорочення кількості планових показників.
6. Упровадження семирічного плану розвитку народного господарства.
7. Визначення прибутку й рентабельності ключовими показниками ефективності роботи підприємств.

30. Укажіть прояви політико-ідеологічної кризи радянського ладу в середині 1960-х – на початку 1980-х рр.

1. Поява концепції «розвиненого соціалізму».
2. Стрімка русифікація середньої та вищої освіти.
3. Проведення політики десталінізації.
4. Посилення репресій проти інакомислячих.
5. Формування багатопартійності.
6. Започаткування масового страйкового руху.
7. Придушення повстань політв'язнів ГУЛАГу.